

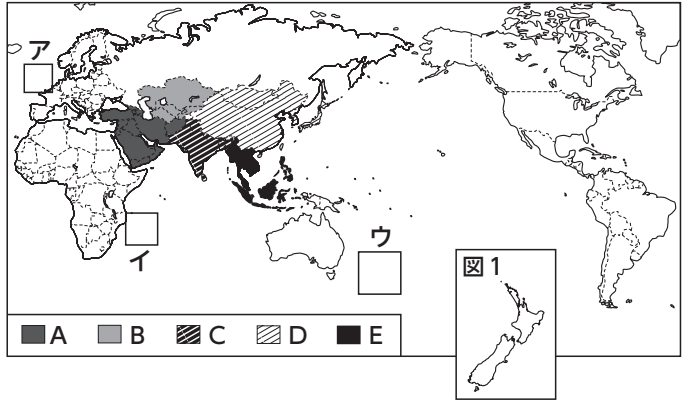
1 次の資料を見て、各問いに答えなさい。

10点×10=100点

(1) 世界の六つの州のうち、アジア州 資料1

とヨーロッパ州がふくまれる大陸名を書きなさい。

ユーラシア大陸



(2) 右の図1の島国が位置する地域を、資料1のア～ウから選び、①記号と、②国名を書きなさい。(完答)

① ウ ② ニューゼーランド

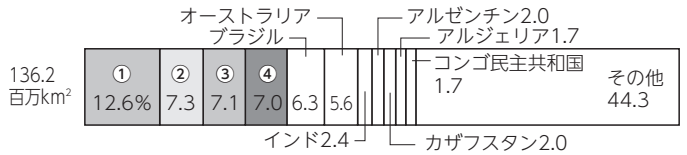
(3) 資料1のA～Eの地域と、その地域に属する国の組み合わせとしてあやまっているものを次のア～オから二つ選び、記号を書きなさい。

ア エ

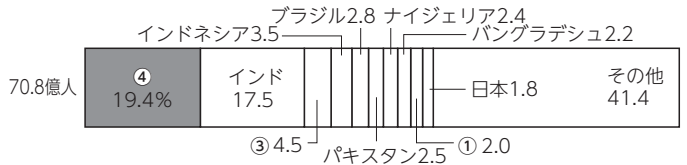
ア A-西アジア・エジプト イ B-中央アジア・カザフスタン
ウ C-南アジア・インド エ D-中央アジア・モンゴル オ E-東南アジア・タイ

(4) 資料2は世界の国別面積の割合、資料3は世界の国別人口の割合を示したものです。①・③・④にあてはまる国名を次のア～カから選び、それぞれ記号を書きなさい。

資料2 世界の国別面積の割合



資料3 世界の国別人口の割合



(2012年) (「日本国勢図会」)

ア アメリカ イ カナダ
ウ 中国 エ ロシア
オ フランス カ メキシコ

① エ ③ ア ④ ウ

(5) 資料4を見て、次の問いに答えなさい。

資料4 中心からの距離と方位が正しい地図

① 地球の全周は約4万kmですが、東京とケープタウンのおよその距離を次のア～エから選び、記号を書きなさい。

ア 約5000km イ 約1万km
ウ 約1万5000km エ 約2万km

ウ

② 東京から見て最も遠くに位置する大陸名を書きなさい。

南アメリカ大陸

③ 東京から見てニューヨークはどの方角にあるか、八方位で書きなさい。

北東

