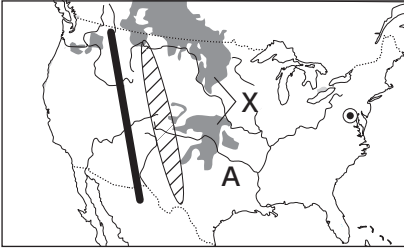


G…技能, S…思考・判断・表現, その他…知識・理解

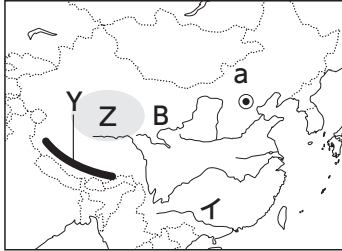
1 次の資料を見て、各問いに答えなさい。

10点×10=100点

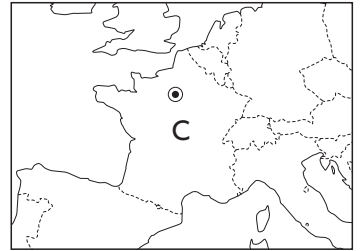
資料1



資料2



資料3

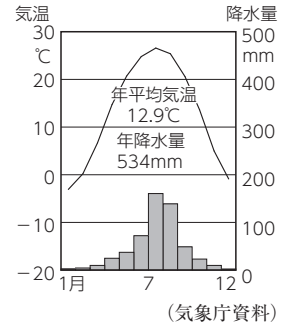


(1) 資料1～3の◎は、それぞれの国の首都を示しています。次の文にあてはまる首都を選び、それぞれ都市名を書きなさい。

- ① 3都市の中で、最も高緯度に位置する首都。
- ② 資料4の雨温図で示され、漢族が人口の約9割をしめる国の首都。

① ②

資料4



(2) 資料1～3のA～C国について、次の文中の()にあてはまる語句を、それぞれ書きなさい。

- ① A国では、グレートプレーンズから()山脈にかけて、肉牛の放牧が行われている。
- ② B国の西部の乾燥地域では、草原を移動しながら馬や羊などを飼う()が行われている。
- ③ C国では、穀物の栽培と家畜の飼育を組み合わせた()農業がさかんである。

(3) 資料1のA国のXの地域で栽培される農産物は、資料2のB国ではおもにaの地域で栽培されている。その農産物を書きなさい。

(4) 資料2のB国のYの山脈と、Zの高原を次のア～エから選び、それぞれ記号を書きなさい。

- ア ヒマラヤ山脈 イ アルタイ山脈
- ウ チベット高原 エ モンゴル高原

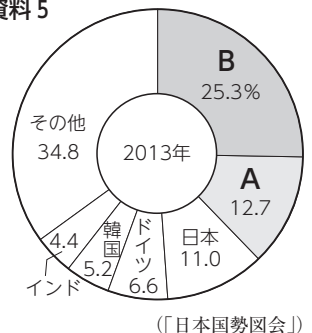
Y

Z

(5) 資料5のA・Bは、資料1・2のA・B国をそれぞれ示しています。資料5は何の国別生産割合を示したものですか。次のア～ウから選び、記号を書きなさい。

- ア チーズ イ 自動車 ウ 小麦

資料5



(6) 次の文にあてはまる国を資料1～3のA～Cから選び、記号を書きなさい。

近年、外資の導入などで沿岸部が発展し、内陸部の農村から出かせぎ労働者をやとって工業化を進めてきた。