

B1	1年 算数	年 <input type="text"/> 月 <input type="text"/> 日 組 <input type="text"/> 番 <input type="text"/>
		名 <input type="text"/> ま <input type="text"/> え <input type="text"/>

- 1 つぎの かずは いくつでしょう。
- ①10 を 2 こ、1 を 8 こあわせたかず
28
- ②10 を 30 こあつめたかず
300
- ③100 を 4 こ、10 を 5 こあつめたかず
450
- ④76 より 5 おお 大きいかず
81
- ⑤34 より 6 ちい 小さいかず
28
- ⑥□+○=10 にあてはまるかず
3、7 4、6 など

- 2 けいさんを しましょう。
- ①2+7=9
- ②4+8=12
- ③60+30=90
- ④50+9=59
- ⑤32+5=37
- ⑥8+91=99

- 3 けいさんを しましょう。
- ①8-6=2
- ②10-7=3
- ③15-8=7
- ④90-30=60
- ⑤49-9=40
- ⑥68-7=61

- 4 けいさんを しましょう。
- ①2+5-3=4
- ②7-3+2=6
- ③10-8+7=9

B2	1年 算数	年 月 日 年 月 日
		名まえ

5 おとこ こ にん おんな
 男の子が8人、女の子が14人います。

①あわせてなん人でしょう。

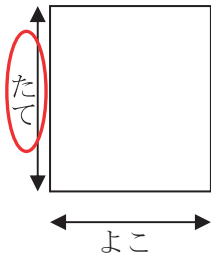
22人

②どちらがなん人おおいでしょう。

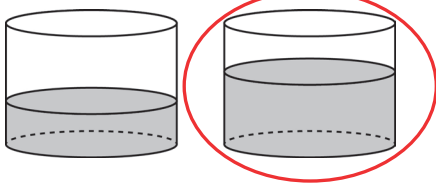
おんなの子が6人おおい

6 くらべましょう。

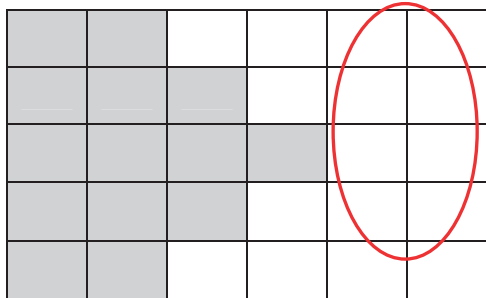
①どちらがながいでしょう。



②どちらがおおいでしょう。



③どちらがひろいでしょう。



7 なんじなんぷんでしょう。

①



1じ15ぶん

②



8じ40ぶん

③



12じ30ぶん

8 ・と・を せんで つないで、いろいろなかたちをかきましょう。

