

| | | |
|-----------|--------------|-------------|
| B1 | 2年 算数 | __年 __組 __番 |
| | | 名前 |

1 つぎの数はいくつですか。

① 10を85こあつめた数
850


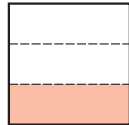
② 100を7こ、10を4こ、1を9こあわせた数
749

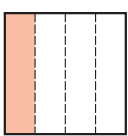
③ 100を30こあつめた数
3000

④ 1000を10こあつめた数
10000

⑤ 3000より900小さい数
2100

2 $\frac{1}{2}$ 、 $\frac{1}{3}$ 、 $\frac{1}{4}$ の大きさに色をぬりましょう。(れい)

① $\frac{1}{2}$  ② $\frac{1}{3}$ 

③ $\frac{1}{4}$ 

3 計算をしましょう。

① $53+29=82$

② $82+46=128$

③ $54+57=111$

④ $3+98=101$

4 計算をしましょう。

① $27-18=9$

② $60-20=40$

③ $155-62=93$

④ $103-48=55$

5 計算をしましょう。

① $2 \times 8=16$ ② $3 \times 6=18$

③ $4 \times 9=36$ ④ $5 \times 5=25$

⑤ $6 \times 7=42$ ⑥ $7 \times 2=14$

⑦ $8 \times 4=32$ ⑧ $9 \times 8=72$

⑨ $7 \times 5=35$ ⑩ $6 \times 9=54$

6 あめ玉がいくつかあります。そのあめ玉に8こくわえたところ、ぜんぶで24こになりました。

① この場めんを図でかきましょう。

| | |
|-----|----|
| はじめ | 8こ |
|-----|----|

-----24こ-----

② はじめにあめ玉は、何こありましたか。

$24-8=16$ 16こ

| | | |
|-----------|--------------|-------------|
| B2 | 2年 算数 | 年 組 番 名前 |
|-----------|--------------|-------------|

7 □に当てはまる数を書きましょう。

①10dL = L

②1000mL = L

③10mm = cm

④3m = cm

⑤3cm6mm = mm

⑥209cm = m cm

8 □に当てはまる数を書きましょう。

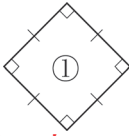
①60分 = 時間

②24時間 = 日


③80分 = 時間 分

④1時間50分 = 分

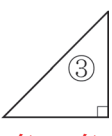
9 次の図形の名前をかきましょう。



①



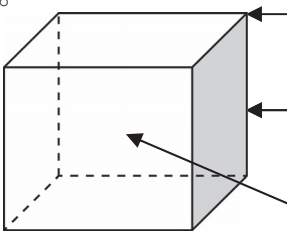
②



③

①正方形 ②長方形 ③直角三角形

10 □に当てはまることばをかきましょう。



11 すきないろをしらべました。ひょうやグラフにせいりしましょう。

| | | | | | |
|----|----|-----|----|----|-----|
| あか | あお | あお | くろ | あお | もも |
| あお | あか | もも | くろ | あお | もも |
| くろ | あか | みどり | もも | あか | もも |
| くろ | あか | あか | あか | くろ | みどり |

①ひょうにせいりしましょう。

| | | | | | |
|------|----|----|----|----|-----|
| しゅるい | あか | あお | くろ | もも | みどり |
| 数(人) | 7 | 5 | 5 | 5 | 2 |

②下のグラフにせいりしましょう。

すきないろしらべ

| | | | | | |
|----|----|----|----|-----|--|
| | | | | | |
| | | | | | |
| | | | | | |
| ● | | | | | |
| ● | | | | | |
| ● | ● | ● | ● | | |
| ● | ● | ● | ● | | |
| ● | ● | ● | ● | | |
| ● | ● | ● | ● | ● | |
| ● | ● | ● | ● | ● | |
| あか | あお | くろ | もも | みどり | |