

こちらのPDFファイルは一年生の算数の内容を復習できるものです。1ページごとに、たし算・ひき算・時計・数の構成など問題が分かれています。印刷して使うこともできます。必要に応じてお使いください。2年生の学習につながる大切な既習事項です。繰り返し練習をすることで力がついていくと思いますので、ご協力をよろしく申し上げます。

・ウォーミングアップ

① 1 と 2 で→

② 2 と 2 で→

③ 3 と 1 で→

④ 1 と 4 で→

⑤ 2 と 3 で→

• たしざん

① $1 + 3 =$

② $4 + 2 =$

③ $5 + 6 =$

④ $0 + 3 =$

⑤ $8 + 1 =$

⑥ $4 + 4 =$

⑦ $7 + 3 =$

⑧ $6 + 9 =$

⑨ $8 + 8 =$

⑩ $1 + 5 =$

⑪ $6 + 7 =$

⑫ $5 + 8 =$

⑬ $7 + 4 =$

⑭ $5 + 5 =$

• ひきざん

① $3 - 1 =$

② $5 - 3 =$

③ $4 - 2 =$

④ $9 - 2 =$

⑤ $15 - 7 =$

⑥ $8 - 3 =$

⑦ $4 - 4 =$

⑧ $10 - 3 =$

⑨ $11 - 7 =$

⑩ $15 - 4 =$

⑪ $12 - 9 =$

⑫ $6 - 5 =$

⑬ $10 - 8 =$

⑭ $11 - 9 =$

• 3つのかずでかんがえよう

$$\textcircled{1} 2 + 3 + 4 =$$

$$\textcircled{2} 6 + 7 + 2 =$$

$$\textcircled{3} 9 - 4 - 3 =$$

$$\textcircled{4} 15 - 8 - 5 =$$

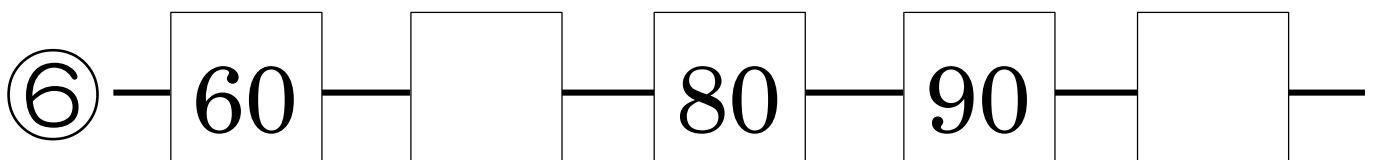
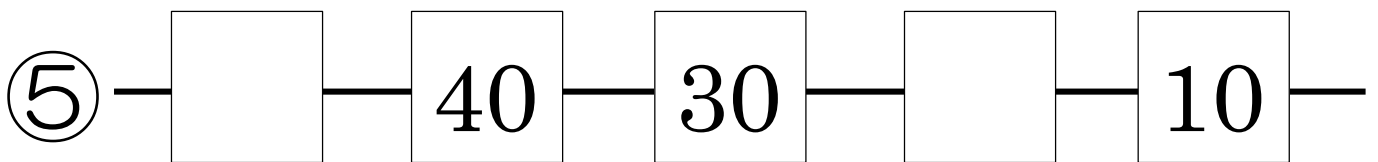
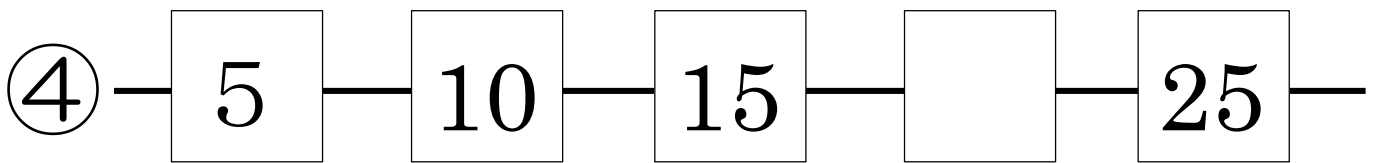
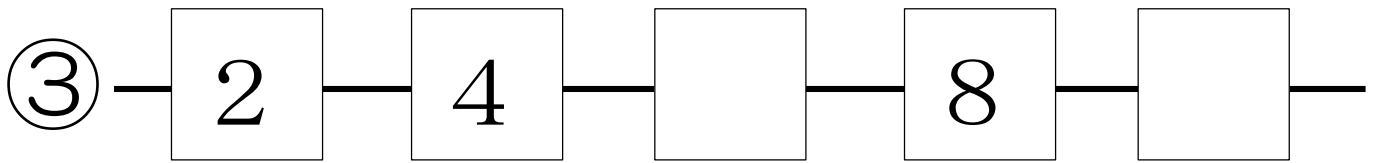
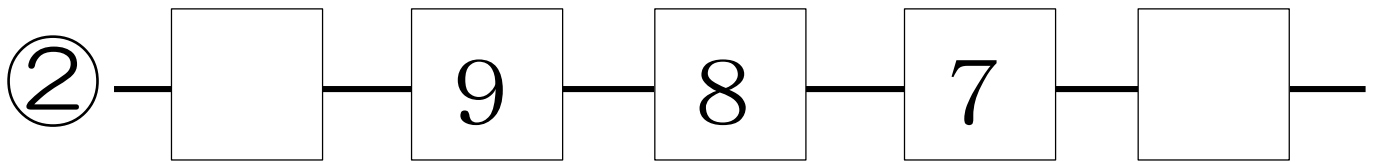
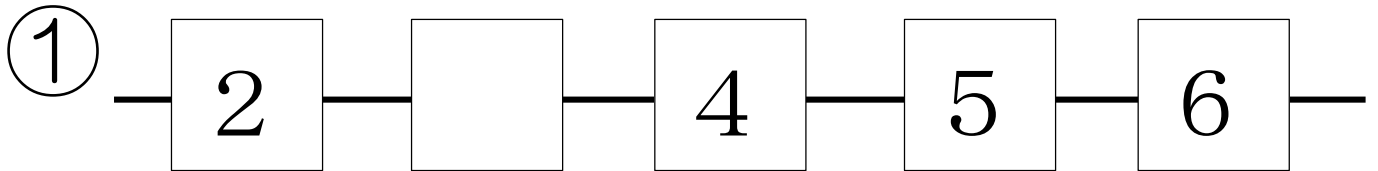
*下の()にどんなすう字を
入れたら、10になるかな？

$$\textcircled{5} () + () + () = 10$$


$$\textcircled{6} () + () - () = 10$$

• じゅんばん

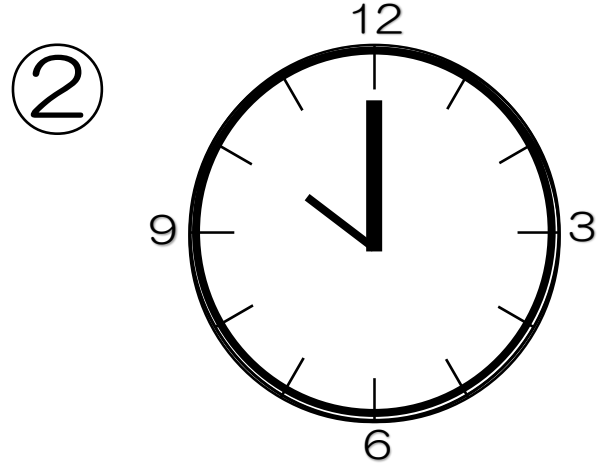
★かずのならびかたを見て、どんなすう字が入るか、かんがえよう。



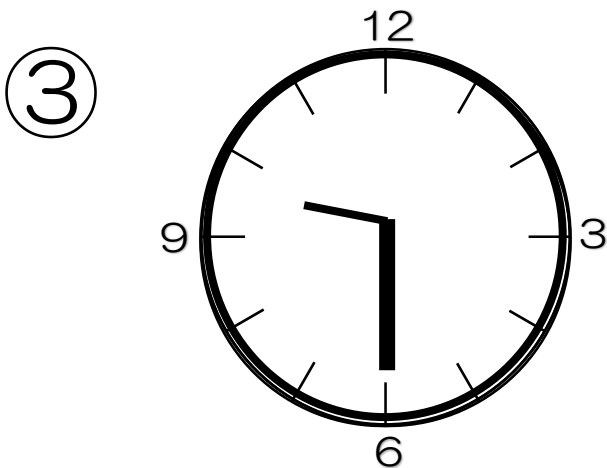
• とけい ☆なんじなんいふんかな？



(じ)

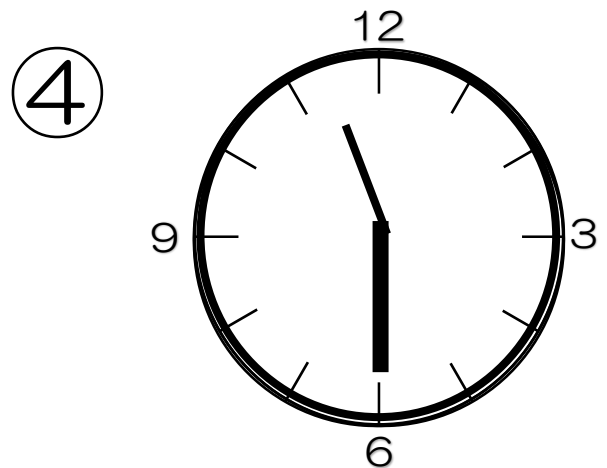


(じ)




(じ いふん)

【 じはん 】ともいいます




(じ いふん)

【 じはん 】ともいいます

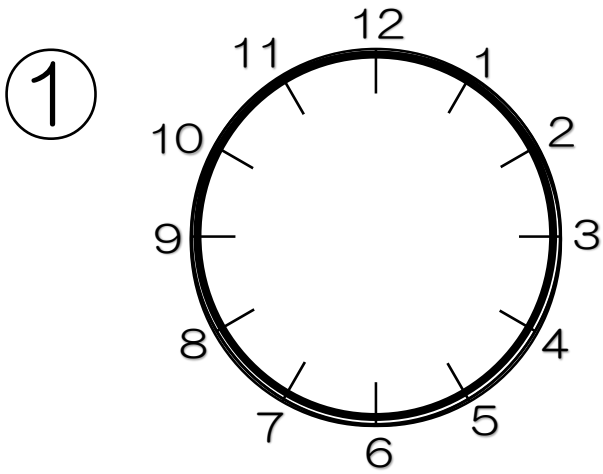


(じ いふん)

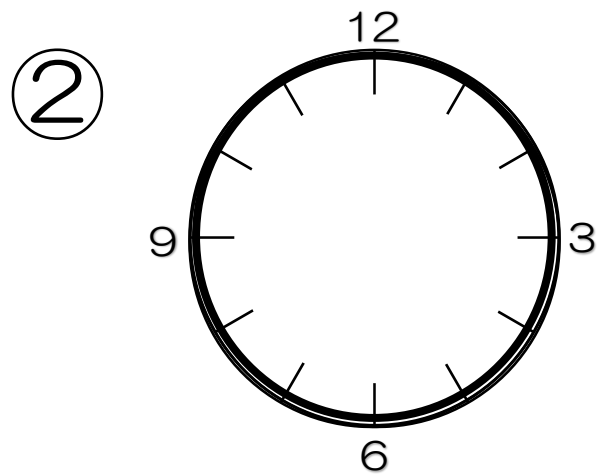


(じ いふん)

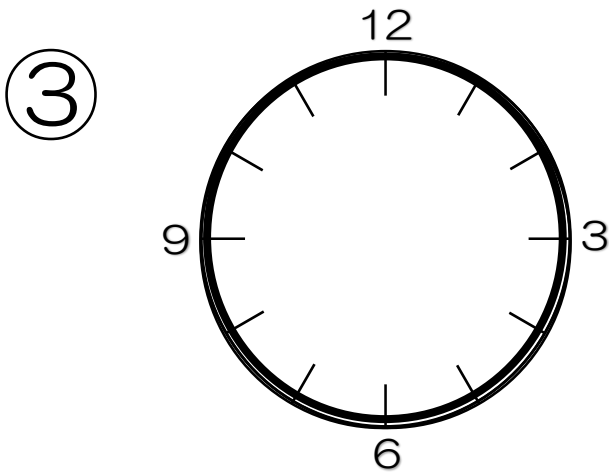
• とけい ☆とけいのはりをかこう



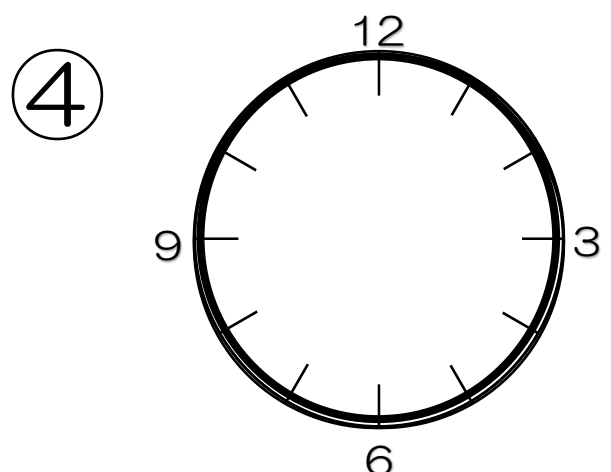
(8じ)




(2じ)




(4じ30いん)



(3じはん)



(8じ50いん)



(1じ45いん)

• なかまはずれをさがそう

◆ 1つだけ、けいさんのこたえがちがう
カードがあるよ。どれかな？

①

$$4 + 3$$

②

$$9 - 2$$

③

$$10 - 3$$

④

$$13 - 6$$

⑤

$$1 + 6$$

⑥

$$1 + 2 + 4$$

⑦

$$3 + 3 + 2$$

⑧

$$7 + 0$$

⑨

$$16 - 9$$

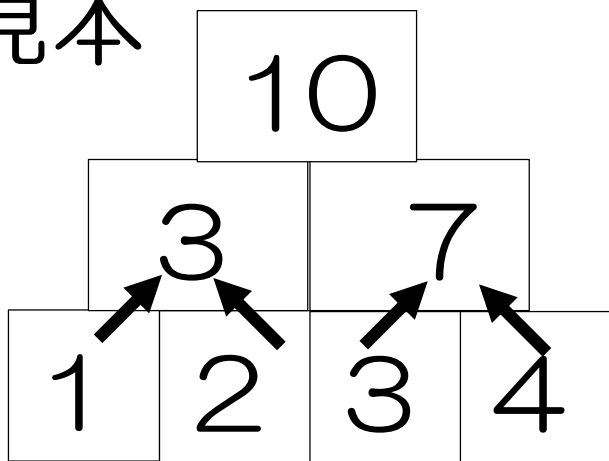
⑩

$$12 - 5$$

• けいさんピラミッド

◆ たしざんを2かいして、ピラミッドの
一ばん上にくるかずをかんがえよう

見本



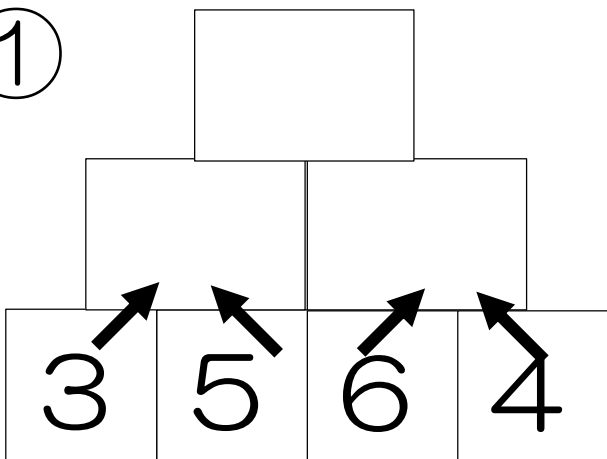
$$1 + 2 = 3$$

$$3 + 4 = 7$$

$$3 + 7 = 10$$

わかるかな？

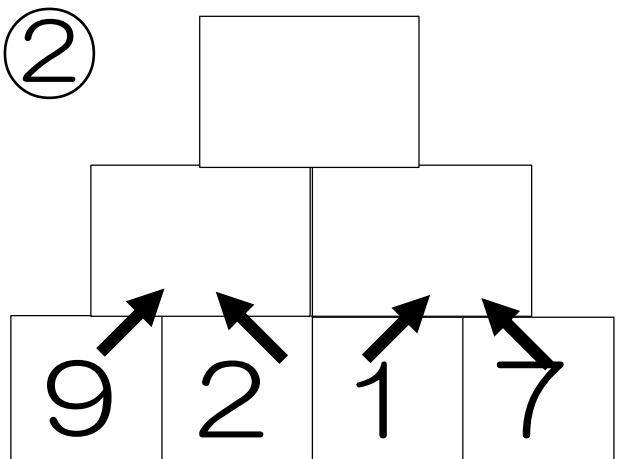
①



$$3 + 5 =$$

$$6 + 4 =$$

②



$$9 + 2 =$$

$$1 + 7 =$$

・かけざんにちょうせん！

- ♥2年生のさんすうでかけざんのべんきょうをします。でも、かけざんは、たしざんができれば、わかってしまうのです！だからちょうせんできる人は、むずかしいけど、やってみよう！ もしできたらすごい！

見本

$$2 \times 4 =$$

2かける4というのは、2が4つあるということです。だから、2かける4のけいさんのこたえは、2を4かいたすとこたえが出ます。2を4かいたすと8に

なるから $2 \times 4 = 8$ なのだ！

どう？ みんなできそうかな？ やってみたくなったらつぎのページへGO！

• かんたんなかけざん

① 2×3 (2かける3) = ?

2が3つ = $2 + 2 + 2 = ?$

だから、 $2 \times 3 =$

② $1 \times 4 = 1 + 1 + 1 + 1 =$

③ $6 \times 3 = 6 + 6 + 6 =$

ここからヒントなし。じぶんのかで

できたら、すごい!がんばろう!

④ $5 \times 3 =$

⑤ $4 \times 4 =$

⑥ $3 \times 1 =$

⑦ $9 \times 2 =$